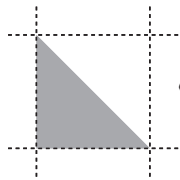


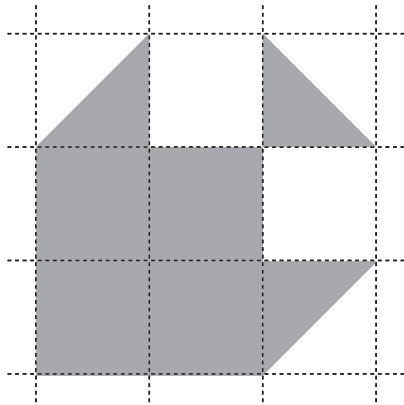
1



いろの色いたをならべて、つぎの(1), (2)の形をつくりました。いろの色いたは、まわしてならべ

てもかまいませんが、うらがえしてはいけません。いろの色いたはそれぞれ何まいならべましたか。

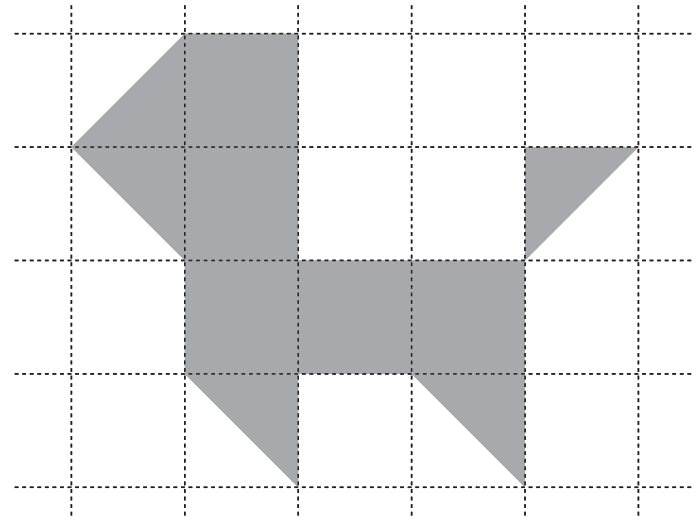
(1)



答え

まい

(2)



答え

まい

2

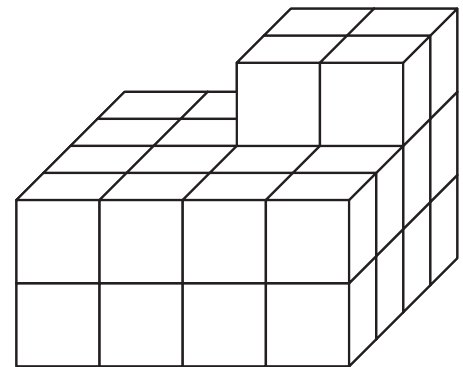
いちろうくんとはなごさんは、さいころの形をした、どれ

も同じ大きさの  のつみ木を、すきまがでないよう

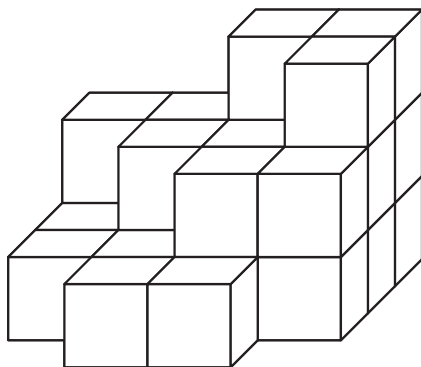
につみかさねて右の図の形をつくります。ふたりは、とちゅ

うまで、それぞれ(1), (2)の図のようにつくりました。ふたり

は、それぞれあと何こつみ木がいりますか。



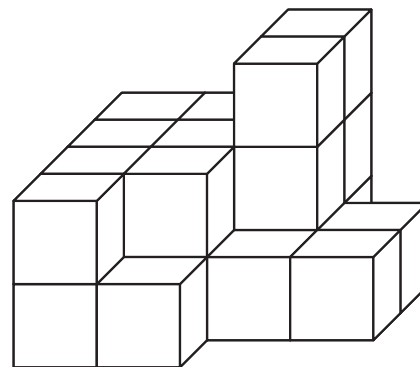
(1) いちろうくん



答え

こ

(2) はなごさん



答え

こ